


一、選擇：

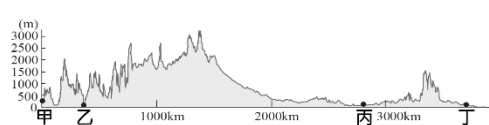
1. (A) 西元 2021 年 4 月，埃及首都開羅街頭舉行一場名為「法老黃金遊行」的活動，將古埃及 22 具法老和女王的皇家木乃伊透過特製車輛送往新博物館。請問下列關於埃及信仰的敘述，何者正確？ (A)埃及人認為人死後通過審判才可以復活，於是 製作「木乃伊」保存軀體 (B)埃及人崇尚光明的火，因此相信世上有善惡兩股對立勢力 (C)由於一神信仰的關係，因此以冥界之神奧塞里斯作為唯一的神靈代表 (D)尼羅河神象徵周而復始的再生力量，而統治埃及的法老便是尼羅河神之子。
 2. (B) 西元 1822 年，法國語言天才、歷史系教授商博良破譯了羅賽塔石碑，透過這塊同時以希臘文與古埃及象形文字的石碑，人們終於能了解古埃及文字，對於古埃及的研究有了突破性的發展。埃及象形文字曾經過了某一個民族簡化後，成為了今日包含希臘文在內的西方拼音文字之基礎，請問該民族應該是下列何者？ (A)蘇美人 (B)腓尼基人 (C)波斯人 (D)希伯來人。
 3. (C) 佳玲在課堂上報告：「此人是羅馬帝國創始者，開創了羅馬和平的盛世。」她應該是在描述哪一個歷史人物？ (A)君士坦丁 (B)查士丁尼 (C)屋大維 (D)凱撒。
 4. (A) 西元 718 至 1492 年，伊比利半島上的民眾展開「收復失地運動」，主要目的是驅逐統治當地的穆斯林，恢復當地普遍的基督教信仰。請問：穆斯林是在哪一個國家的擴張行動中，占領了伊比利半島，並成為當地領導者？ (A)阿拉伯帝國 (B)波斯帝國 (C)馬其頓王國 (D)鄂圖曼帝國。
 5. (A) 附圖為西亞地區的傳統生活景觀。請問：類似的生活方式在非洲的哪一地區也可以見到？ (A)北部 (B)中部 (C)西部 (D)東部。
- 
6. (C) 母語教學是現代教育中普遍被接受的觀念。在西方歷史上，哪一個階段開始使用母語從事寫作？ (A)中古時期 (B)希臘化時代 (C)文藝復興時代 (D)羅馬帝國時期。
 7. (C) 小美看到達文西的名畫《最後的晚餐》，上面有耶穌和十二門徒用餐的情景，每位門徒的表情和動作都呈現細膩的差異，以反映他們當時的心態。這種注重「人性」的藝術手法，反映出當時的哪一種思想精神？ (A)報復主義 (B)神學至上 (C)人文主義 (D)輪迴觀念。
 8. (C) 「□」的海外探險，成功連結歐洲與美洲兩大陸，並且展開之後幾個世紀的歐洲探險和海外殖民的風潮，對現代西方世界的歷史發展影響深遠。但是對於美洲原住民而言，卻是殘酷迫害的開始。」請問：□應該是何人？ (A)狄亞士 (B)達伽馬 (C)哥倫布 (D)馬丁路德。
 9. (C) 有一場研討會討論三位歷史人物：達伽馬、哥倫布、麥哲倫。請問：這場研討會最可能探討下列哪個主題？ (A)文藝復興 (B)宗教改革 (C)大航海時代 (D)基督教分裂。
 10. (B) 科學革命時代的重要思想家，強調對個別、具體事物進行實驗與觀察，再運用歸納的方式來建立現象發生的通則，渴望成為「新知識世界的哥倫布」，是指下

列哪一位？ (A)笛卡兒 (B)培根 (C)牛頓 (D)哥白尼。


11. (A) 附圖是下列哪一個區域性國際組織的旗幟？ (A)歐洲聯盟 (B)石油輸出國家組織 (C)東南亞國家協會 (D)亞太經濟合作會議。



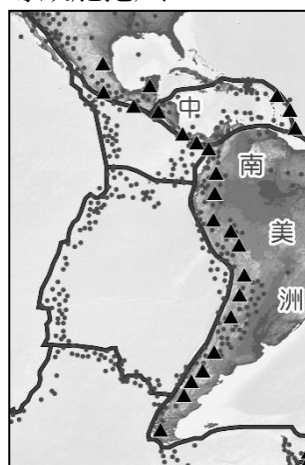
12. (C) 北美洲西部因受到哪兩個板塊互相擠壓影響，故地勢高聳，且火山活動與地震頻繁？ (A)印澳板塊、太平洋板塊 (B)北美板塊、菲律賓海板塊 (C)太平洋板塊、北美板塊 (D)歐亞板塊、北美板塊。
13. (C) 「流域面積廣大的密西西比河流貫北美大平原，為早期開發時，深入平原區的天然航道。」附圖為北美洲沿 35°N 所繪製的地形剖面圖，上述地區應位於圖中哪一個區域？ (A)甲 (B)乙 (C)丙 (D)丁。



14. (C) 附圖為某區域性組織互惠理念的示意圖，下列哪一個地區的國家為其主要會員國的分布區？ (A)東南亞 (B)北非 (C)歐洲 (D)北美。

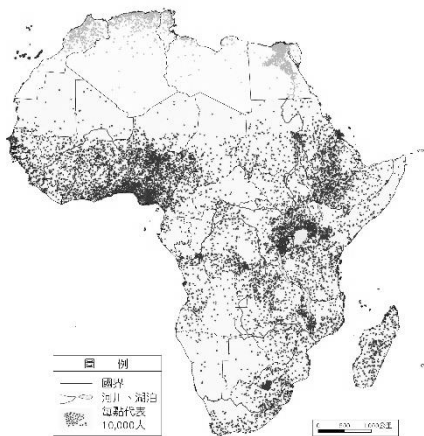


15. (A) 附圖中的點狀圖示為中南美洲某種天然災害的分布區，依據圖中資訊判斷，該災害發生的原因為何？ (A)板塊與板塊間的擠壓活動 (B)盛行西風帶來的強烈沙塵 (C)大陸冷高壓帶來的暴風雪 (D)氣溫劇烈變化導致龍捲風。

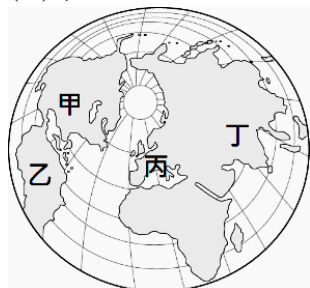


16. (C) 巴塔哥尼亞荒漠是阿根廷境內最大的荒漠，也是世界第七大荒漠，占地 67 萬 3 千平方公里。請問：導致該地區氣候乾燥少雨的主要原因為何？ (A)深居內陸水氣難達 (B)副熱帶高氣壓籠罩 (C)居盛行西風背風側 (D)沿海地區暖流流經。

17. (D) 下列哪一地理事實與「智利位居南美洲板塊和納茲卡板塊的接觸帶」關係最密切？ (A)漁產豐富 (B)氣候多樣 (C)涼流流經 (D)地震頻繁。
18. (D) 下圖為非洲人口密度圖。請問：圖中人口分布現象與哪一因素影響最無關？ (A)地形 (B)氣候 (C)河川 (D)宗教。



19. (C) 漠南非洲今日的貧窮與落後，與十五世紀起受到哪一個地區的國家入侵有關？ (A)甲 (B)乙 (C)丙 (D)丁。



20. (A) 非洲的就業人口結構中，以第一級產業為主，但非洲的飢荒情形仍時有所聞，有可能是何種原因所致？ (A)其農業種植多以經濟作物為主 (B)糧食作物大多以出口導向為主 (C)人民工業產值高擠壓農業發展 (D)自然生態受到農業發展的破壞。
21. (D) 下列哪一種冰河地形因谷底寬平利於道路修築，常成為阿爾卑斯山區南北往來的天然孔道？ (A)峽灣 (B)谷灣 (C)冰蝕湖 (D)U型谷。
22. (D) 當個人權利受到侵害時，可以向下列何者提出訴訟？ (A)警察局 (B)法務部 (C)憲法法庭 (D)法院。
23. (D) 訴訟外的解決紛爭途徑，其特色不包括下列何者？ (A)迅速 (B)程序簡便 (C)較具彈性 (D)較能保障權利。
24. (A) 生活中，我們需要使用各種資源，有關「資源」的內涵，下列說明何者正確？ (A)滿足欲望所需之物 (B)能夠無條件供人使用 (C)僅限於有形之物 (D)單一資源僅有一種用途。
25. (A) 社會上的資源有限，因此必須採取適當的方法來分配，針對不同的資源，下列何種分配方法最不合理？ (A)學校的籃球場由成績好的優先使用 (B)以抽籤方式分配聖誕節的交換禮物 (C)路邊停車格採使用者付費的方式 (D)公園運動器材採輪流使用。
26. (B) 消費者購買商品時，大多會選擇較便宜的商品購買，購買數量也可能比同款較昂貴的商品多。廠商間用降價方式來吸引更多消費者，這是何種競爭方式？ (A)商品競爭 (B)價格競爭 (C)企業形象 (D)非價格競爭。
27. (A) 數字 1 原作為單身光棍的象徵，後來成為特別的購物節，許多商家藉此推出「買一送一」、「降價大促銷」等優惠活動，民眾也因為促銷價格相當優惠，徹夜等待只為當日搶到優惠。上述購物節的優惠是屬於何種競爭方式？ (A)價格競爭 (B)企業形象 (C)多元競爭 (D)非價格競爭。
28. (A) 早期人們使用以物易物的方式進行交易，下列何者為此種交易的特色？ (A)衡量物品的價值缺乏公平標準 (B)交易過程省時省力 (C)由國家強制規定其價值 (D)具有延遲支付的功能。

29. (A) 在童話故事「傑克與魔豆」裡，傑克用 1 頭牛跟老爺爺換了神奇豆子，這是採用下列何種交易方式？ (A)以物易物 (B)商品貨幣 (C)法定貨幣 (D)行動支付。
30. (A) 《民法》規範私人間的權利義務關係，下列何者在《民法》中權利義務關係的類型，與其他三者不同？ (A)春嬌與志明辦理結婚登記 (B)玲恩向房東租了一間店面 (C)春嬌上網訂購一套洋裝 (D)志明買屋向銀行借了五百萬。
31. (A) 阿傑因成立樂團資金週轉不靈，向小新借了 20 萬元，兩人並合意寫了一張借據，阿傑表示將按月分 20 期歸還，每月並按銀行利率支付利息。下列相關敘述何者正確？ (A)阿傑有還債的義務 (B)小新有還債的義務 (C)兩人間成立買賣契約 (D)兩人間成立租賃契約。
32. (D) 非洲地區在國際組織中具有相當的影響力，其主要原因最可能是下列何者？ (A)礦產資源多 (B)農作產量高 (C)人口成長率高 (D)國家總數最多。
33. (D) 早期歐洲列強多以何種方式在非洲劃分勢力範圍，造成非洲各國複雜的民族組成，也埋下日後部落衝突與政治不安的因子？ (A)山脈 (B)河川 (C)語言 (D)經緯線。
34. (B) 世界上許多熱帶國家都有被殖民的經歷，而過程中衍生的經濟發展模式稱為「殖民地式經濟」。在這種經濟模式之下，被殖民者主要從事何種經濟活動？ (A)為世界提供糧食作物 (B)提供經濟作物和礦產 (C)生產提供民生必需品 (D)發展科技與世界接軌。
35. (C) 年貨大街許多攤商為了吸引客人，推出免費試吃活動，希望能刺激買氣，全力拚業績。上述攤商舉辦該活動的主要目的應為下列何者？ (A)降低利潤 (B)減少供給量 (C)提升銷售量 (D)降低生產成本。
36. (D) 十五世紀以來，亞洲的奢侈品主要由甲商人運銷到地中海東岸，再由乙商人脈往歐洲各地。請問上面敘述的甲跟乙應該要分別填入哪個國家？ (A)甲：義大利；乙：阿拉伯 (B)甲：葡萄牙；乙：西班牙 (C)甲：西班牙；乙：義大利 (D)甲：阿拉伯；乙：義大利。
37. (D) 「西元六世紀，這位皇帝在位期間完成一部匯集古羅馬法律的法典，深深影響著後世歐洲，甚至成為歐洲各國法律的典範。」請問：文中的「皇帝」最可能為下列何人？ (A)漢摩拉比 (B)屋大維 (C)君士坦丁 (D)查士丁尼。
38. (D) 西元四世紀末，羅馬帝國正式分為東西兩部分，而東方的拜占庭帝國在西羅馬帝國滅亡後，繼續在東方持續一千多年的政權，但最後被哪一個民族所滅？ (A)日耳曼人 (B)阿拉伯人 (C)塞爾柱土耳其人 (D)鄂圖曼土耳其人。
39. (A) 這個地方十分有趣，既有法老的廟宇，也有基督教、伊斯蘭教的寺廟，可以說是多種宗教的聚集地，此地可能位於？ (A)北非 (B)兩河流域 (C)伊比利半島 (D)印度河流域。
40. (B) 附圖是八世紀時，一個橫跨歐、亞、非三洲帝國的疆域圖，關於這個帝國的敘述，下列何者正確？ (A)此帝國為拜占庭帝國 (B)這個帝國起源於阿拉伯半島 (C)這個帝國建立希臘化文化 (D)這個帝國引發亞歷山大東征。

