

# 中山國中 社會領域 第一冊 補行評量 參考題目

## 一、單一選擇題 (共 30 題)

- 1.( D ) 大衛在沙漠中迷路，此時他面對初升的太陽，雙手向左右平伸，則右手所指的是哪一方？ (A)西方 (B)北方 (C)東方 (D)南方。

- 2.( D ) 下列有關大小比例尺的特色敘述中，在同樣大小的紙張上，下列敘述何者錯誤？

	(A)	(B)	(C)	(D)
大比例尺	$\frac{1}{100}$	詳細	可畫範圍小	臺灣地圖
小比例尺	$\frac{1}{10,000}$	簡略	可畫範圍大	臺南市地圖

- 3.( B ) 附圖為黑面琵鷺過冬路線的示意圖，由圖中資料判斷，這種現象和臺灣的何種條件關係最大？

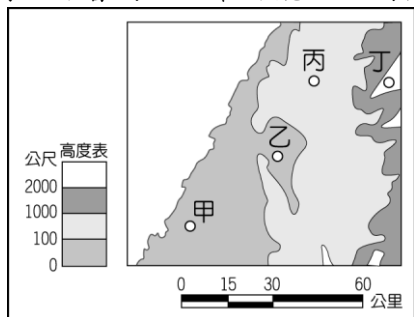


- (A)海陸交會 (B)南北中點 (C)地勢起伏 (D)四面環海。

- 4.( B ) 李大伯的旅遊日記寫著：「到了這裡下遊覽車後，映入眼中的是一望無際的平坦開闊天地。然而稀薄的空氣及寒冷氣候，卻讓身體感到略為不適。」請問：此時李大伯所到的地點可能是下列哪一種地形區？ (A)高山 (B)高原 (C)平原 (D)台地。

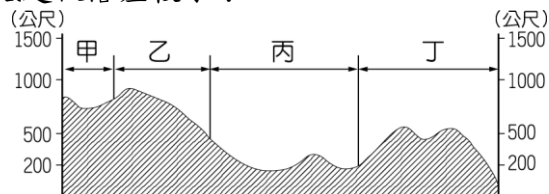
- 5.( A ) 地形作用力會改變地表的形貌，對人類生活也會帶來很大的影響，尤其是發生的時間和範圍，更是直接影響災害程度的高低。請問：下列哪一種類型的地形作用力最容易造成嚴重的傷亡事件？ (A)發生時間快範圍大 (B)發生時間快範圍小 (C)發生時間慢範圍大 (D)發生時間慢範圍小。

- 6.( B ) 可魯為了尋找主人的下落，站在地圖上最高點四處觀看，終於發現主人位在他的西南方約 40 公里的地方。請問：可魯的主人最可能位於附圖中何處？



- (A)甲 (B)乙 (C)丙 (D)丁。

- 7.( A ) 剖面圖的用途相當多元化，包含了常見的建築物剖面圖或地形剖面圖等。附圖為某地區的地形剖面圖，若由圖中資料判斷，哪一段剖面圖的範圍，其地勢高低起伏落差較小？



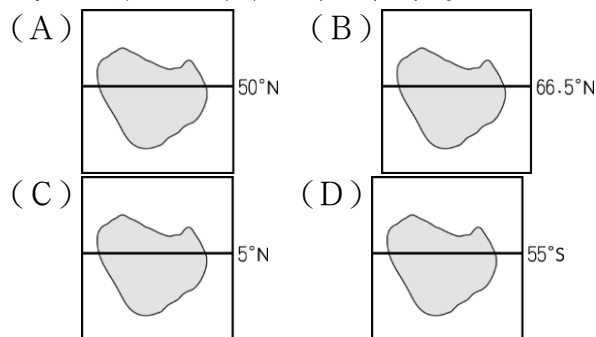
- (A)甲 (B)乙 (C)丙 (D)丁。

- 8.( D ) 臺北市林口台地新落成的房屋相當多，由於地勢居高臨下，視野遼闊，因此房價持續看漲。請問：上

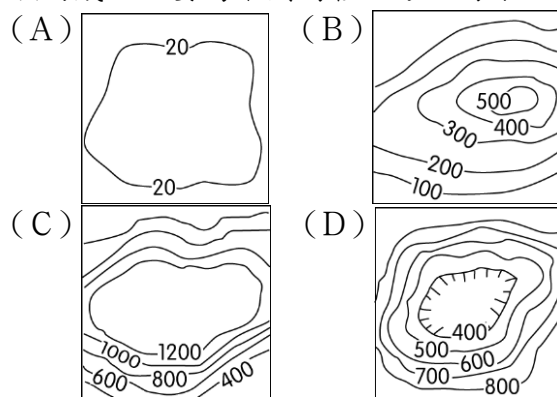
述地形區的主要成因為何？ (A)河川含沙量多，沖積扇堆積凸起形成台地 (B)火山岩漿侵入，造成地殼隆起的平坦地面 (C)海岸侵蝕力強，沿岸平原向內侵蝕而後退 (D)板塊活動作用，地表受到擠壓而向上抬升。

- 9.( C ) 某地理實察解說如下：「該地區早期為河川沖積形成，而後受到內營力作用而使地層抬升，最後兩側出現河川侵蝕作用，而形成現在的地形。」請問：上述考察地點應該為下列哪一地形區？ (A)雪山山脈 (B)埔里盆地 (C)林口台地 (D)嘉南平原。

- 10.( C ) 王老闆欲尋找一個未開發的珊瑚礁海岸島嶼規畫成度假村，下列哪一島嶼最為適合？



- 11.( B ) 金門位於廈門灣內，早期為海峽兩岸間的戰事前線，今日則成為兩岸交流的小三通重鎮。請問：該島嶼的成因主要為下列何種地形因海面上升所造成？



- 12.( A ) 暑假馬上到來，各地紛紛舉辦夏日派對演唱會，除了勁歌熱舞外，當然少不了五彩繽紛的高空煙火秀。請依附圖中位置判斷，當會場施放煙火時，哪裡最容易被當時的盛行風影響，煙霧迷漫而影響視野？



- (A)三德飯店 (B)民權國中 (C)成淵高級中學 (D)雙連國小。

- 13.( D ) 近年來科學家研發太陽能電池，將太陽能轉為電能，不過太陽能電池需要夠長的日照，才能持續發電。若就上文所描述，下列何地較適合發展「太陽能發電」？ (A)宜蘭 (B)臺北 (C)桃園 (D)澎湖。

- 14.( D ) 「我的家鄉最怕下雨了，幾乎逢雨必淹！因為養殖漁業長期超抽地下水，導致地層嚴重下陷，所以現在的新房子都把地基建得很高，回家還要先爬一小段樓梯。」上文是小毅對自己家鄉的描述，小毅的家鄉應該在下列哪一個縣市？ (A)臺北市 (B)南投縣 (C)花蓮縣 (D)屏東縣。

- 15.( B ) 幼穎利用暑假走訪臺灣目前所發現最古老的史前文化，附表是她所蒐集的資料，其中哪一項錯誤？

時間	距今五萬至五千年前
地點	位於東部花蓮縣
生產方式	採食
使用工具	打製的石器

(A)時間 (B)地點 (C)生產方式 (D)使用工具。

16.( A ) 有關「十三行文化」的敘述，下列何者錯誤？  
 (A)發現地點在臺東縣長濱鄉 (B)經濟活動以農業為主  
 (C)出土煉鐵作坊說明當時已經進入鐵器時代 (D)與其他地區貿易往來密切。

17.( A ) 下列四位同學正在討論南島語族分布的四個極點。其中哪一位同學的說法錯誤？

甲生：最東端為夏威夷。  
 乙生：最西端為馬達加斯加島。  
 丙生：最北端為臺灣。  
 丁生：最南端為紐西蘭。

(A)甲生 (B)乙生 (C)丙生 (D)丁生。

18.( C ) 臺灣的原住民與漢人長期相處通婚，大部分多已漢化。請問：下列哪一原住民的漢化最深？ (A)布農族 (B)排灣族 (C)西拉雅族 (D)阿美族。

19.( C ) 清帝國早期，藍鼎元隨堂兄藍廷珍來臺平定朱一貴事件，並提出一個主張：「諸羅地方遼闊，鞭長莫及，應畫虎尾溪以北，另設一縣，駐紮半線。」因此一建議，清廷增設了哪一行政區？ (A)淡水廳 (B)雲林縣 (C)彰化縣 (D)臺灣縣。

20.( B ) 清帝國統治期間臺灣發生過三次大規模的民變，下列何者是康熙年間爆發的重大民變事件？ (A)郭懷一事件 (B)朱一貴事件 (C)戴潮春事件 (D)林爽文事件。

21.( C ) 動畫公司設計一部名為「百步蛇與太陽旗的戰爭」的短片，若影片內容須合乎歷史發展脈絡，則下圖中「丙場景」應為下列何者？〔105.會考〕



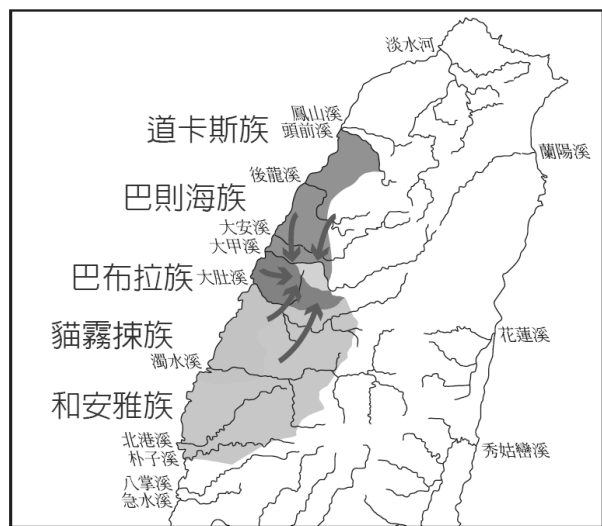
(A)淡水、基隆為主要戰場，兩軍死傷無數 (B)原住民在南投山區抗日，日軍傷亡慘重 (C)朝廷任命沈葆楨為欽差大臣，來臺加強防務 (D)清廷派軍參戰，因戰事失利，被迫割讓臺灣。

22.( D ) 自荷蘭人據臺後至清帝國統治後期，臺灣持續出口的商品為何？ (A)鹿皮 (B)樟腦 (C)茶葉 (D)蔗糖。

23.( D ) 下列何者不是清帝國早期臺灣社會經常發生械鬥、民變的原因？ (A)吏治不良 (B)祖籍差異 (C)語言不同 (D)反對清廷劃界封山政策。

24.( B ) 下列何者最能顯示出臺灣由移墾社會轉型為本土社會的特質？ (A)由不同姓氏間的械鬥轉為不同職業間的械鬥 (B)由祭祀唐山祖轉為祭祀開臺祖 (C)對外貿易量大幅增加 (D)由於環境衛生的改善，死亡率大幅降低。

25.( D ) 1804年（嘉慶9年），臺灣部分地區平埔族群在巴則海族頭目的號召下聚集（如圖所示），隨後沿著大甲溪溯溪北上，準備遷移至一個尚未被清帝國派官管理的新天地。請問：這群平埔族遷移目的地應是現今的何處？



(A)臺東 (B)臺北 (C)恆春 (D)宜蘭。

26.( C ) 部分國人喜好到美國生產，因此有業者看到商機，主打從待產到坐月子的一條龍服務，讓獨自到美國生產的婦女也能獲得妥善的照顧。有關到美國生產的國籍認定，下列敘述何者正確？ (A)在美國出生的新生兒，僅具有美國國籍 (B)到美國生產的產婦，可因此獲得美國國籍 (C)新生兒即便在美國出生，也可擁有我國國籍 (D)新生兒及產婦因為不具美國籍，形同難民。

27.( A ) 阿祥考完會考後，和父母討論如何選填志願。阿祥的父母表示不論阿祥選擇什麼科系，都會全力支持他。上述顯示阿翔的父母落實何種精神？ (A)人性尊嚴 (B)公平正義 (C)理性思考 (D)自由放任。

28.( C ) 自古以來，帶有性別歧視與刻板印象的文句不少，下列何者不含有此種涵義？ (A)紅顏禍水 (B)女子無才便是德 (C)女大十八變 (D)男兒有淚不輕彈。

29.( C ) 臺東縣政府社會處特別規畫「書·包夢想」專案，替低收入戶子女特別課後輔導及提供成長課程等。此專案主要是幫助哪一項家庭功能的提升？ (A)保護與照顧功能 (B)經濟功能 (C)教育功能 (D)生育功能。

30.( A ) 思涵發現跟同學一起撰寫的報告錯誤百出，如下所示，只有哪一段完全正確？

第一段：根據《原住民族基本法》，查找「部落」的意義。

第二段：由於各部落的生活空間經常遷移，管轄區域並不固定。

第三段：召開部落會議，由政府官員主持會議過程。

第四段：部落領袖產生的方式，各族均是由家族世襲，因此權力控制穩定。

(A)第一段 (B)第二段 (C)第三段 (D)第四段。